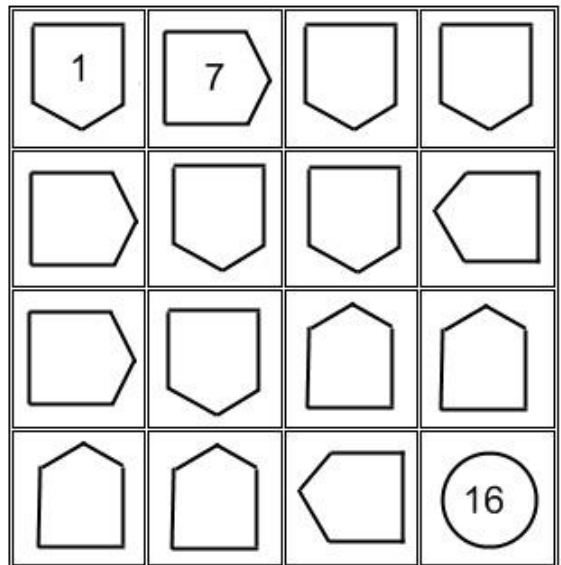
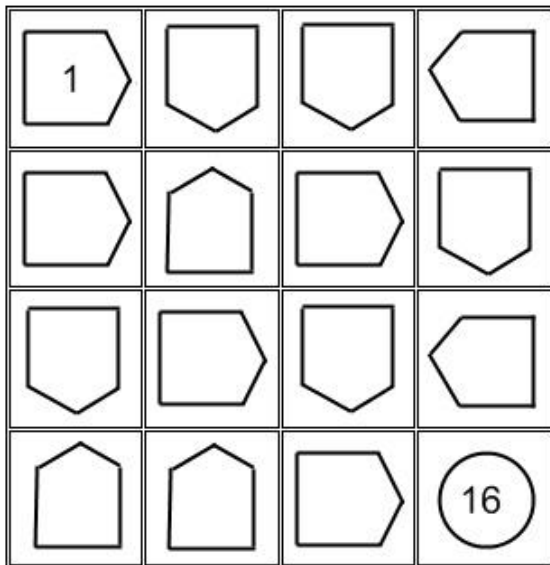
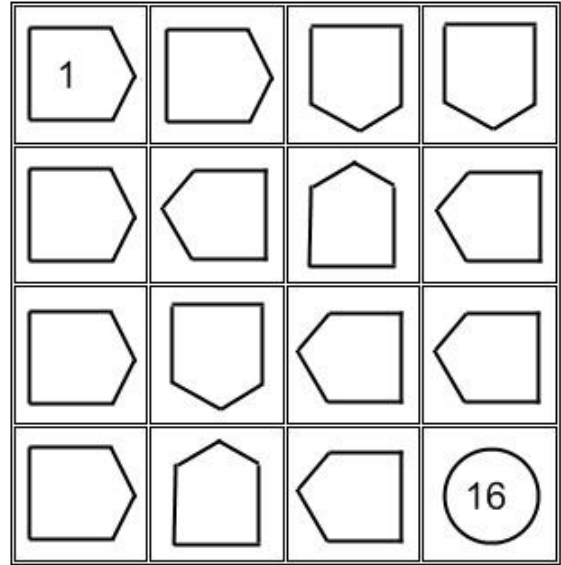
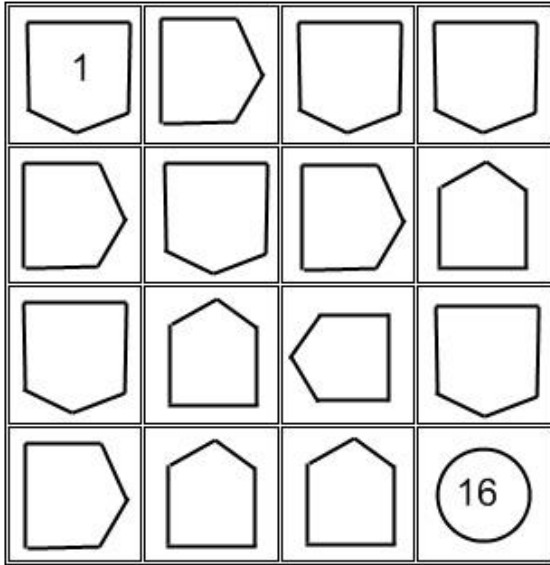


### Задание 19. Путь по стрелкам

Начав с левого верхнего угла, достигните правого нижнего, обойдя ровно по разу все клетки квадрата. Из каждой клетки в следующую можно переходить по направлению стрелки. То есть нужно расставить в стрелки числа так, чтобы стрелка с числом обязательно указывала на стрелку со следующим числом. Старт и финиш этого пути указаны. Возможно, еще некоторые числа уже заняли свое место.



1			11	
				25

1				
				25